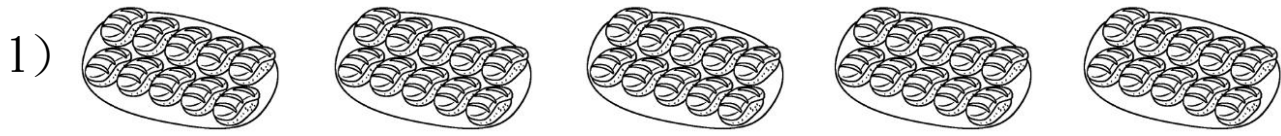


三水同鄉會禰景榮學校
2019-20 年度 第二學習階段
二年級數學科 鞏固工作紙(乘法)

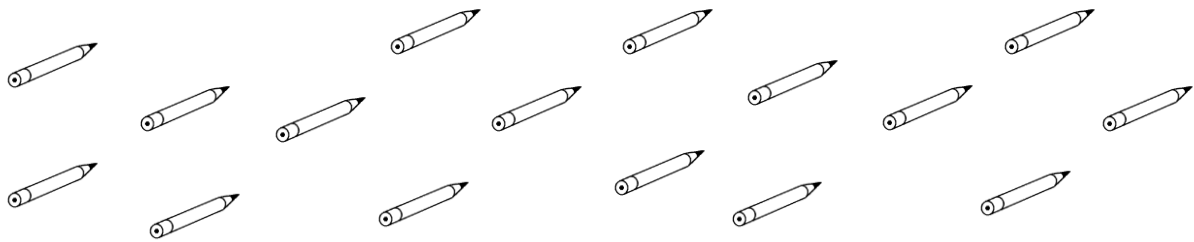
姓名：_____ () 班別：2____ 日期：_____



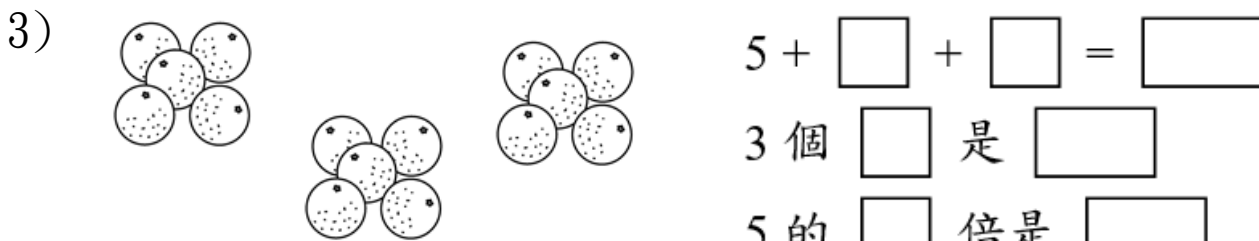
10 \Rightarrow 20 \Rightarrow \Rightarrow \Rightarrow

有 _____ 個 10，共有 _____ 件壽司。

2) 每 4 支鉛筆一圈。



有 _____ 個 4，共有 _____ 支鉛筆。



$$5 + \square + \square = \square$$

3 個 是

5 的 倍是

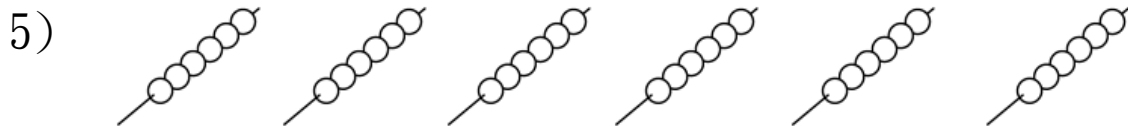
$$5 \times \square = \square$$



$$\square + \square + \square + \square + \square + \square = \square$$

2 的 倍是

$$\square \times \square = \square$$



一串魚蛋有 6 粒，6 串蛋共有 _____ 粒。

$$\square \circ \square = \square$$

6) 老師把膠圈每 9 個分成一份，7 份共有膠圈 _____ 個。

$$\square \circ \square = \square$$

7) 每份早餐有 1 條香腸和 2 隻雞蛋，8 份早餐共有香腸 _____ 條。

$$\square \circ \square = \square$$

8) $8 \times 4 =$ _____

9) $0 \times 6 =$ _____

10) $9 \times 2 =$ _____

11) $7 \times 10 =$ _____

12) $1 \times 0 =$ _____

13) $5 \times 8 =$ _____

14) _____ $\times 7 = 63$

15) _____ $\times 10 = 100$

16) $1 \times$ _____ $= 2$

17) $3 \times$ _____ $= 0$

18) $5 \times 6 =$ _____ $\times 5$

19) _____ $\times 1 =$ _____ $\times 4$

20) 下面哪一項的答案最大？

- A. 9 的 6 倍 B. 9×7 C. $9+9+9+9$ D. 5 個 9

21) 下面哪一個不是 8 的乘法結果？

- A. 56 B. 34 C. 48 D. 64

22) 如果 $\triangle \times 4 = 24$ ， $\triangle \times 9 = ?$

- A. 4 B. 6 C. 36 D. 54

23) 一雙襪子有 2 隻，9 雙襪子共有多少隻？(列式計算)

24) 每個男生都沒有戴帽子，8 個男生共戴帽子多少頂？(列式計算)

25) 公園內有 9 輛三輪車，共有輪子多少個？
(列式計算)



一星期有多少天？

26) 爸爸每天吃 2 片麵包，爸爸一星期共吃麵包多少片？(列式計算)

27) 弟弟參加繪畫班，每節 3 小時，他一星期共上課多少小時？
(列式計算)

繪畫班

上課日期

逢星期一、三和五