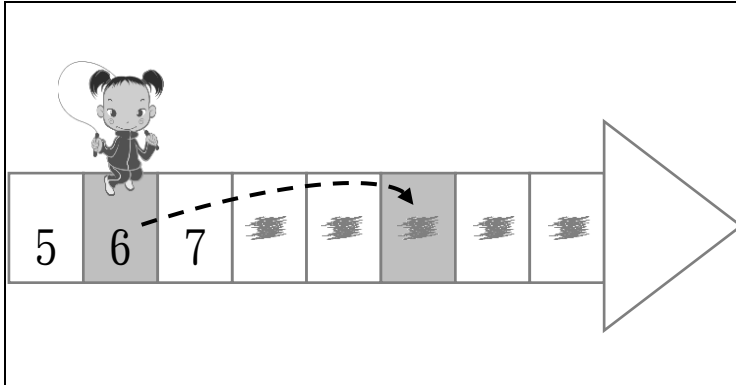


三水同鄉會禰景榮學校
2019-20 年度 第二學習階段
一年級數學科 鞏固工作紙
(加和減、個位和十位、認識 21 至 100)

姓名：_____ () 班別：1_____ 日期：_____

1)




觀察左圖，

(a) 依**順數跳 4 格**，

會跳到 _____。

(b) $6 + 4 = \underline{\quad}$



觀察左圖，

(c) 依**倒數跳 4 格**，

會跳到 _____。

(d) $10 - 4 = \underline{\quad}$

2) $2 + 8 = \underline{\quad}$

$\underline{\quad} - 8 = 2$

$\underline{\quad} - 2 = 8$

3) $7 + \underline{\quad} = 12$

$12 - 5 = \underline{\quad}$

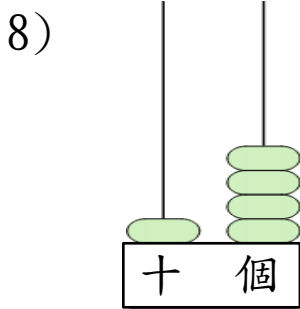
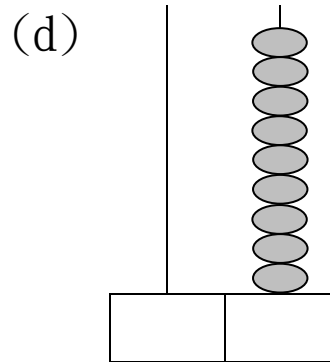
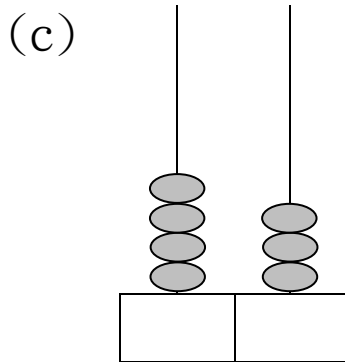
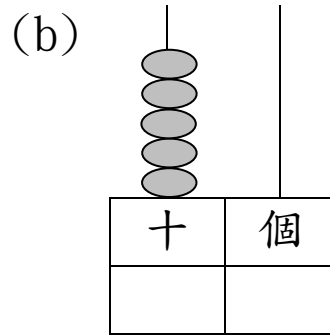
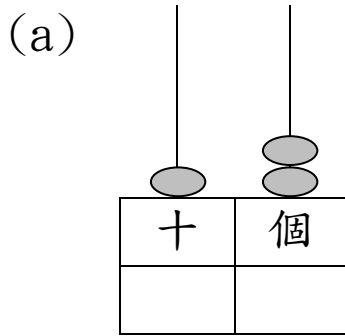
$12 - \underline{\quad} = 5$

4) $9 + 4 = \underline{\quad} + 9$

5) $\underline{\quad} + 3 = 3 + 9$

6) $\star + \underline{\quad} = \triangle + \star$

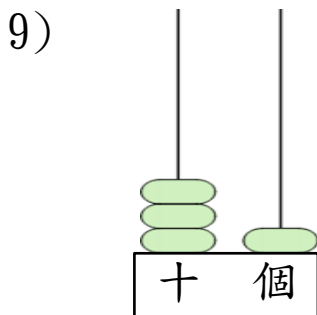
7) 在 內填寫算柱表示的數。



「1」在十位，代表 10；

「4」在個位，代表 _____。

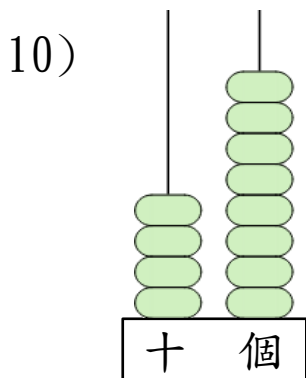
$$10 + \underline{\quad\quad} = 14$$



「_____」在十位，代表 _____；

「_____」在個位，代表 _____。

$$\underline{\quad\quad} + \underline{\quad\quad} = \underline{\quad\quad}$$



「_____」在十位，代表 _____；

「_____」在個位，代表 _____。

讀作 _____。
(中國數字)

