

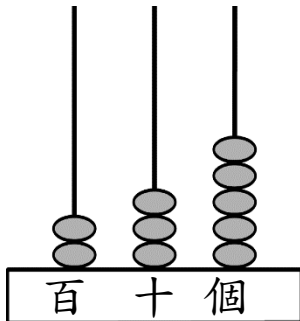
三水同鄉會禰景榮學校

2019-20 年度 第二學習階段

二年級數學科 鞏固工作紙 (三位數、加法和減法)

姓名：_____ () 班別：2_____ 日期：_____

1)



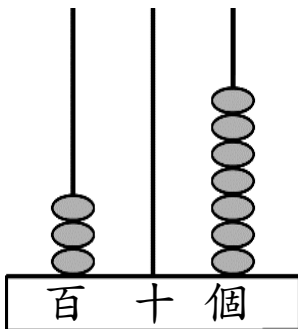
「2」在百位，代表 。

「3」在十位，代表 。

「5」在個位，代表 。

寫作：_____ 讀作：_____

2)



「3」在 _____ 位，代表 。

「0」在 _____ 位，代表 。

寫作：_____ 讀作：_____

3)

下面是最近三天售出小說的數量，把售出小說的數量由少至多排列出來。

| 星期 | 二 | 三 | 四 |
|--------|-----|-----|-----|
| 數量 (本) | 727 | 827 | 801 |

答案：_____，_____，_____

(最少) (最多)

4)



用上面其中三張數卡組成一個最大的三位單數：_____

5) 每個樽有 50 塊餅乾，6 個樽共有 _____ 塊餅乾。



6) (a)
$$\begin{array}{r} 221 \\ + 49 \\ \hline \square \end{array}$$

(b)
$$\begin{array}{r} 576 \\ + 229 \\ \hline \square \end{array}$$

(c)
$$\begin{array}{r} 541 \\ + 232 \\ \hline \square \end{array}$$

(d)
$$\begin{array}{r} 275 \\ + 147 \\ \hline \square \end{array}$$

$$\begin{array}{r} + 108 \\ \hline \square \end{array}$$

$$\begin{array}{r} + 399 \\ \hline \square \end{array}$$

(e)
$$\begin{array}{r} 80 \\ - 55 \\ \hline \square \end{array}$$

(f)
$$\begin{array}{r} 65 \\ - 18 \\ \hline \square \end{array}$$

(g)
$$\begin{array}{r} 92 \\ - 57 \\ \hline \square \end{array}$$

(h)
$$\begin{array}{r} 96 \\ - 19 \\ \hline \square \end{array}$$





$$\begin{array}{r} - 24 \\ \hline \square \end{array}$$

$$\begin{array}{r} - 18 \\ \hline \square \end{array}$$

7) 有 229 對羽毛球鞋，籃球鞋比羽毛球鞋多 147 對，足球鞋又比籃球鞋多 265 對，足球鞋有 _____ 對。

8) 鋼琴班原有 47 個學生，今天只有 35 個學生上課，今天缺席學生 _____ 個。

9)

| | | | |
|---|---|---|---|
|  |  |  |  |
| 雪梨 243 個 | 蘋果 386 個 | 芒果 ? 個 | 檸檬 39 個 |

芒果比蘋果多售出 279 個，水果店今天售出芒果多少個？
(列式計算)

$$\begin{aligned} & \underline{\hspace{2cm}} : \\ & \underline{\hspace{2cm}} \\ = & \underline{\hspace{2cm}} \quad (\quad) \end{aligned}$$

10) 繪畫班的材料費是 58 元，文軒付 70 元，應找回多少元？
(列式計算)

$$\begin{aligned} & \underline{\hspace{2cm}} : \\ & \underline{\hspace{2cm}} \\ = & \underline{\hspace{2cm}} \quad (\quad) \end{aligned}$$

11) 動物園裏有 63 隻猴子，猴子比鴨子多 29 隻，
鴨子又比綿羊多 18 隻，綿羊有多少隻？(列式計算)

$$\begin{aligned} & \underline{\hspace{2cm}} : \\ & \underline{\hspace{2cm}} \\ = & \underline{\hspace{2cm}} \quad (\quad) \end{aligned}$$

12) 媽媽買了一對售 342 元的羽毛球鞋給哥哥和一對售 399 元的足球鞋給弟弟，還剩下 159 元。媽媽原有多少元？(列式計算)

$$\begin{aligned} & \underline{\hspace{2cm}} : \\ & \underline{\hspace{2cm}} \\ = & \underline{\hspace{2cm}} \quad (\quad) \end{aligned}$$